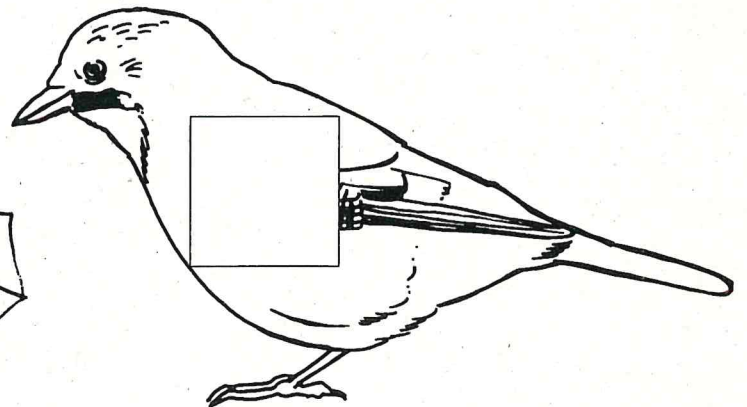




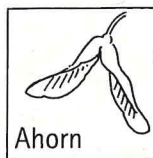


# Wie kommt der Baum auf die Mauer?

Schneide die Kästchen mit den Früchten/Samen am unteren Rand des Blattes aus und klebe sie so in das Bild, dass man erkennen kann, wie sie verbreitet werden. Trage die Art ihrer Verbreitung in die Tabelle ein. Fallen dir weitere Früchte ein, die du in dieses Bild einordnen könntest? Trage sie in die Tabelle ein! Welche weiteren Arten der Samenverbreitung kennst du?



| Frucht    | Verbreitung | Weitere Früchte mit gleicher Verbreitung |
|-----------|-------------|--|
| Ahorn     |             |  |
| Klette    |             |  |
| Eichel    |             |  |
| Hagebutte |             |  |



Weitere Verbreitungsarten

---



---